

1. REŠITVE NALOGE

Izračunaj.

V spletno učilnico je nalogo oddalo 12 učencev od 21 učencev 7.a razreda. Koliko % učencev je oddalo nalogo? Koliko % učencev naloge ni oddalo?

21 učencev100%

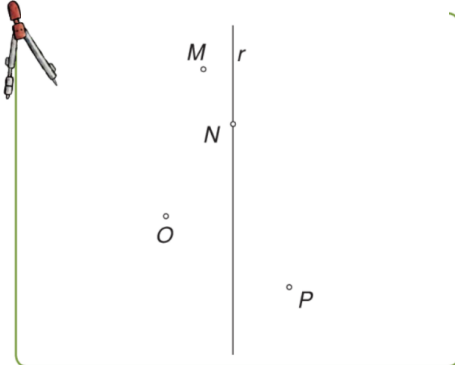
12 učencev.....x%

$$x = \frac{12 \cdot 100}{21} = 57,14\%$$

Nalogo je oddalo 57% učencev, ni pa je oddalo 43% učencev.

2. ZRCALJENJE ČEZ PREMICO – utrjevanje

1. Zr: _____



NAVODILO:

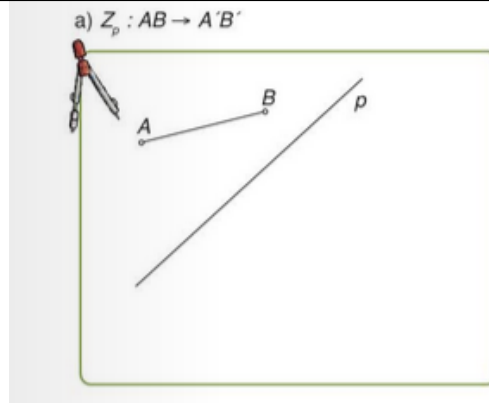
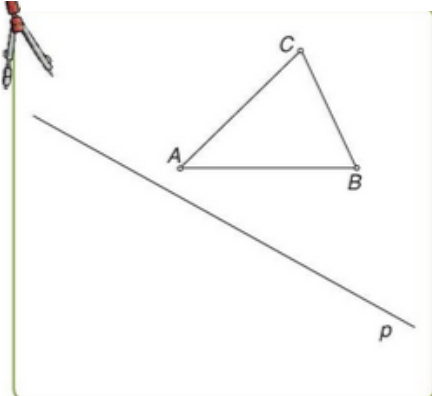
- Preriši slike v zvezek.
- Zrcali na isti način kot so posnetki v SU:

<https://ucilnice.arnes.si/mod/assign/view.php?id=3724887>

- Ob vsaki sliki dodaj še zapis še z matematičnimi simboli.
- Uporabi svinčnik šestilo geotrikotnik in barvno pisalo za zrcalne slike.
- Nalogo oddaj v Spletno učilnico:

https://ucilnice.arnes.si/course/view.php?id=56538§ion=2&si_nglesec=2

2. Zp: _____



Dana lika prezrcali čez premico.

