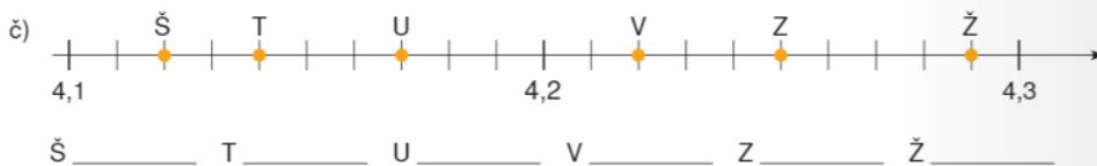
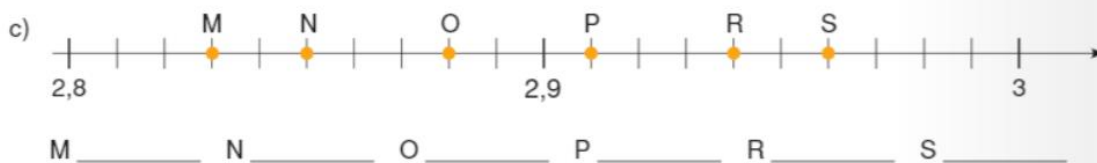
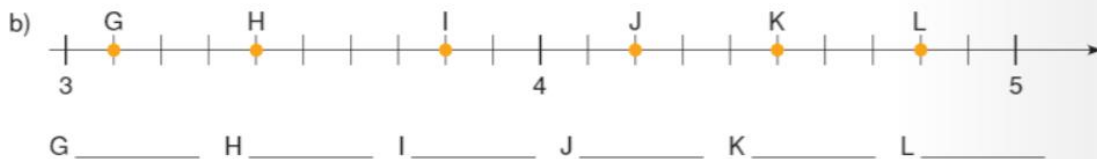
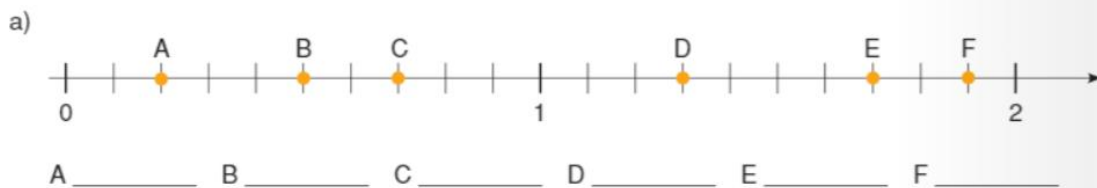
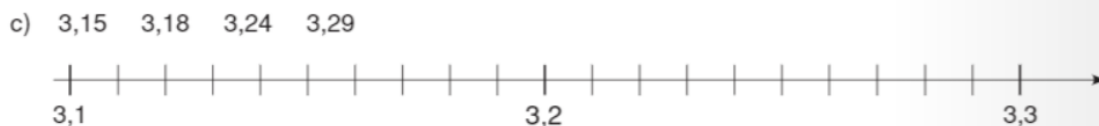


Učni list natisni ali pa lepo prepiši in preriši v zvezek. Riši po črtah. Pazi na razdalje med deli celote.

1 Odčitaj števila, ki so označena na številski premici in jih kot decimalno število zapiši na črto.



2 Na številski premici označi točke, ki predstavljajo dana decimalna števila.



3 Decimalni števili primerjaj po velikosti. Vstavi znak $<$, $>$, $=$.

a) 4,3 6,3

b) 32,8 16,402

c) 3,2 0,9

č) 4,8 4,6

d) 0,5 0,17

e) 0,43 0,4

f) 8,32 8,324

g) 0,08 0,8

h) $2\frac{3}{10}$ 2,3

i) $3\frac{42}{100}$ 34,2

4 Obkroži pravilne trditve.

a) $2,3 < 12,3$

b) $4,2 > 4,18$

c) $0,35 > \frac{35}{10}$

č) $\frac{312}{100} > 31,02$

d) $0,84 < 0,8$

e) $6,12 > 6,8$

f) $4,335 < 4,353$

g) $0,018 < 0,02$

5 Decimalna števila uredi po velikosti. Začni z najmanjšim.

a) 0,012 1,2 0,12 1,12 0,02

_____ , _____ , _____ , _____ , _____

b) 3,64 8,3 3,6 8,215 3,632

_____ , _____ , _____ , _____ , _____

c) 42,6 24,38 2,438 2,54 42,734 24,8

_____ , _____ , _____ , _____ , _____

č) 0,015 0,23 0,08 0,812 0,0752

_____ , _____ , _____ , _____ , _____

d) $\frac{3}{100}$ 0,3 0,003 $\frac{3}{1}$ $\frac{33}{10}$

_____ , _____ , _____ , _____ , _____

V učbeniku na strani 96, reši 2, 3, 4 in 5 nalogo. Nalogo slikaj in vstavi v spletno učilnico do toraka: <https://ucilnice.arnes.si/course/view.php?id=56534>