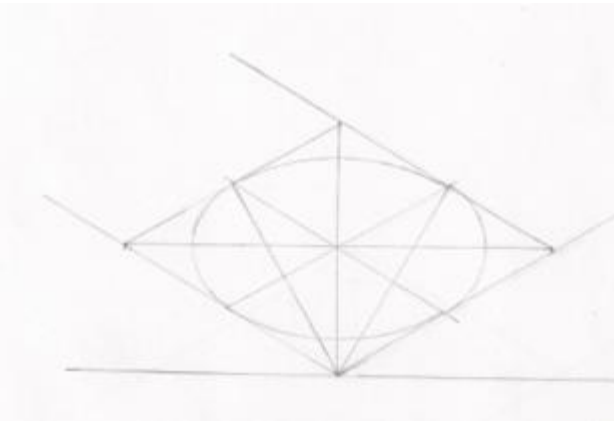
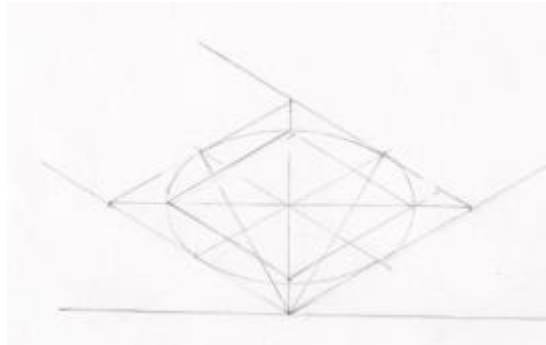
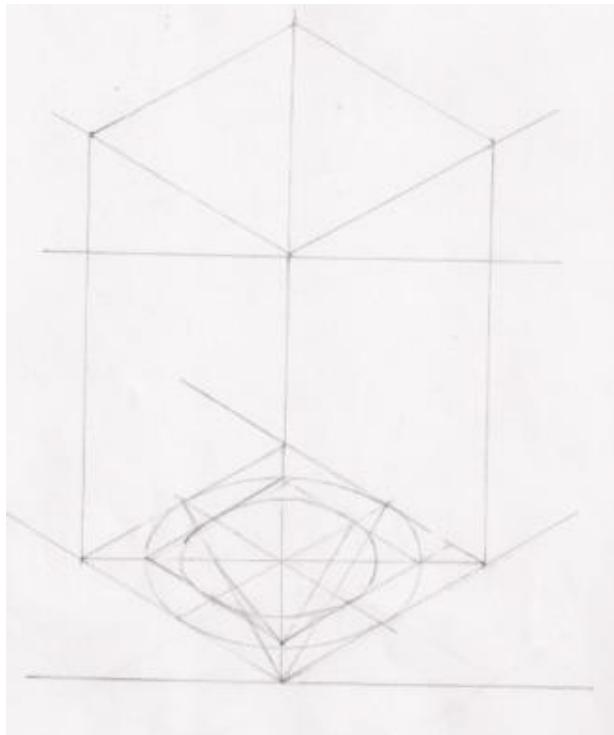
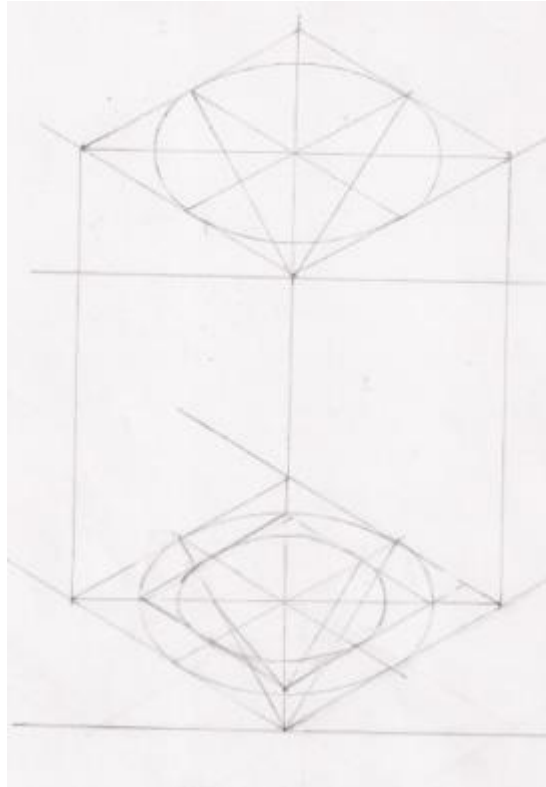


TOREK, 19.1.2021

Pozdravljeni učenci.

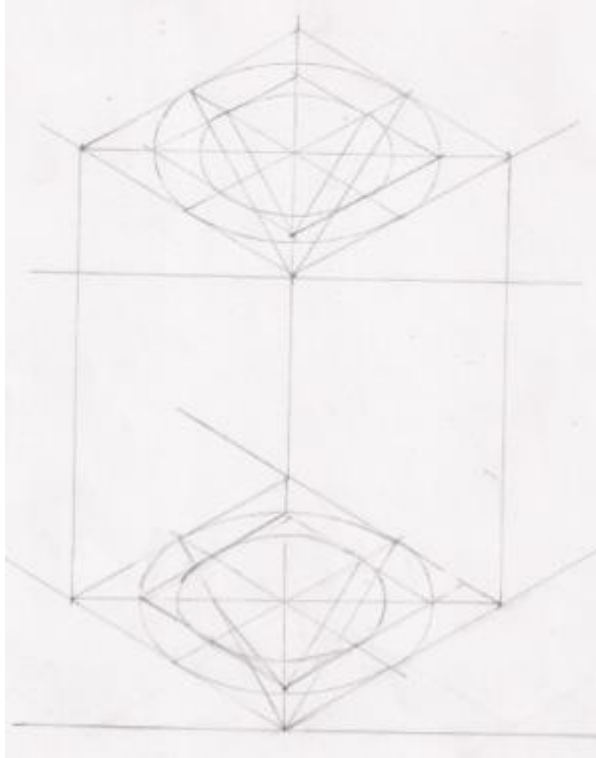
Danes boste poskusili narisati **cev v izometrični projekciji**.

Sledite korakom v navodilih in poskusite narisati pokončno cev.

<p>1. Korak</p> <p>Nariši elipso v kvadratu s stranico 60 mm.</p> 	<p>2. Korak</p> <p>Znotraj kvadrata nariši manjši kvadrat, ki naj bo od vseh stranic oddaljen 5 mm.</p> 
<p>3. Korak</p> <p>Znotraj manjšega kvadrata nariši elipso. Nato nariši višino prizme (110 mm).</p> 	<p>4. Korak</p> <p>Zopet nariši elipso v večji kvadrat.</p> 

5. Korak

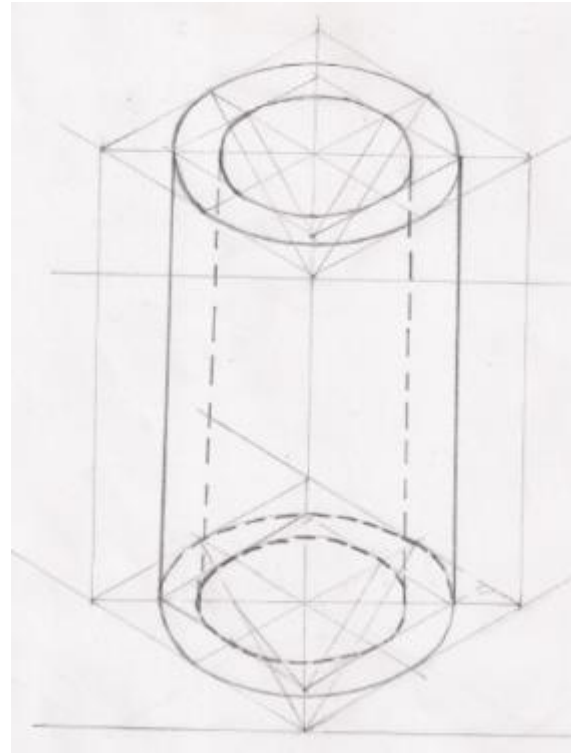
Nariši še manjšo elipso v manjši kvadrat (enako kot na spodnji ploskvi).



6. Korak

Poveži skrajni točki **zgornje večje elipse** s skrajnima točkama **spodnje večje elipse**.

Poveži skrajni točki **zgornje manjše elipse** s skrajnima tačkama **spodnje manjše elipse**.



Upam, da boste cev uspešno narisali. Pri delu pazite, da rišete rahle črte, bodite potrpeživi in kar se da natančni. Na koncu poudarite narisano cev. **Kdor želi mi lahko sliko odda v spletni učilnici. Za uspešno delo boste nagrajeni 😊.**