




Videokonferenca MAT 6. c 

Omejeno

Jožica Urukalo /pouk na daljavo

13 PONOVI MO DELJENJE

Izvedel in ponovil boš:
– kako deliš naravna števila.



Rok je raziskoval zanimive poklice. Obiskal je mlinarja in si ogledal mletje žita, pri katerem so z moko polnili velike 12-kilogramske vreče. Potem je videl, da pomočnik z moko iz teh vreč polni manjše 2-kilogramske vrečke.

RAZMISLI Koliko vrečk napolni z moko iz ene vreče?

1. V zvezek napiši:

UTRJEVANJE / DELJENJE

2. REŠI v zvezek: ZN1 str. 42/55. - 58.

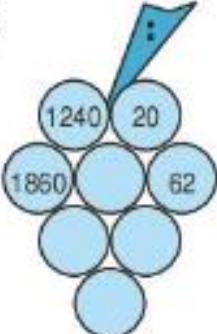
55. Izračunaj in napravi preizkus.

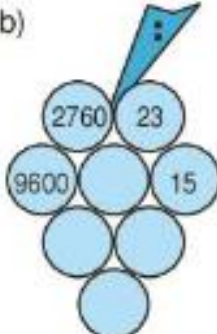
- | | |
|-------------------|-------------------|
| a) $695 : 5$ | b) $4527 : 3$ |
| c) $7269 : 4$ | č) $25\ 489 : 9$ |
| d) $5616 : 72$ | e) $14\ 640 : 48$ |
| f) $21\ 308 : 35$ | g) $81\ 900 : 81$ |

56. Deli in naredi preizkus.

- | | |
|--------------------|--------------------|
| a) $2875 : 125$ | b) $6750 : 150$ |
| c) $18\ 078 : 262$ | č) $14\ 552 : 428$ |
| d) $5824 : 118$ | e) $7347 : 350$ |
| f) $16\ 728 : 673$ | g) $51\ 872 : 756$ |

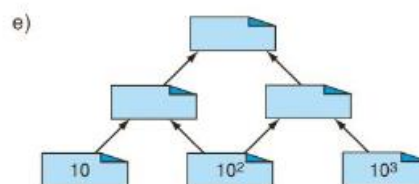
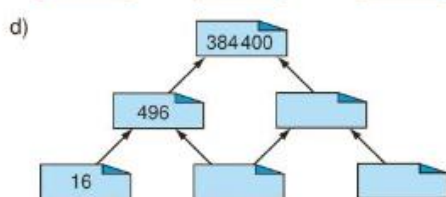
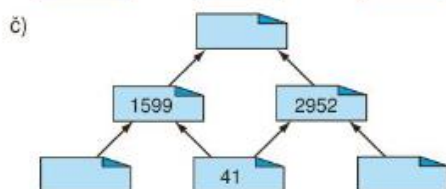
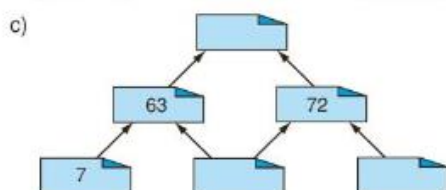
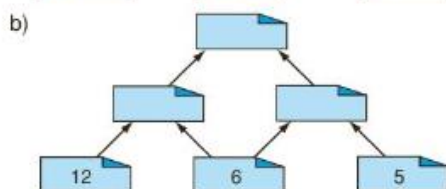
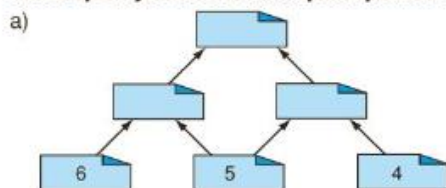
57. Deli števili in količnik vpiši v krogec pod njima. Katero število je zadnje v grozdu?

a) 

b) 

TEŽJA NALOGA / IZZIV

58. Število na zgornjem listu je enako produktu števil na spodnjih dveh listih. Izpolni prazna mesta.



PRIJETEN KONEC TEDNA 😊