

TOREK, 24.11.2020

Pozdravljeni učenci.

Danes vas čaka **ocenjevanje znanja.**

V zvezek napišite naslov **OCENJEVANJE ZNANJA.**




Nato narišite spodnje postavitve v izometrični projekciji.

Upoštevajte mere:

a = 40 mm

b = 25 mm

c = 10 mm

Postavitev 1:	Postavitev 2	Postavitev 3
		

Želim vam veliko uspeha pri načrtovanju.

Izdelek slikajte in oddajte v spletni učilnici, da bom lahko ocenila vaše delo.