

**PONEDELJEK, 23.11.2020**

Pozdravljeni učenci.

Danes vas čaka **ocenjevanje znanja**.

V zvezek napišite naslov **OCENJEVANJE ZNANJA**.




**Nato narišite spodnje postavitve v izometrični projekciji.**

Upoštevajte mere:

a = 40 mm

b = 25 mm

c = 10 mm

Postavitev 1:	Postavitev 2	Postavitev 3
		

Želim vam veliko uspeha pri načrtovanju.

**Izdelek slikajte in oddajte v spletni učilnici, da bom lahko ocenila vaše delo.**